


INVESTICE DO ROZVOJE VZDĚLÁVÁNÍ

Sčítací bubliny



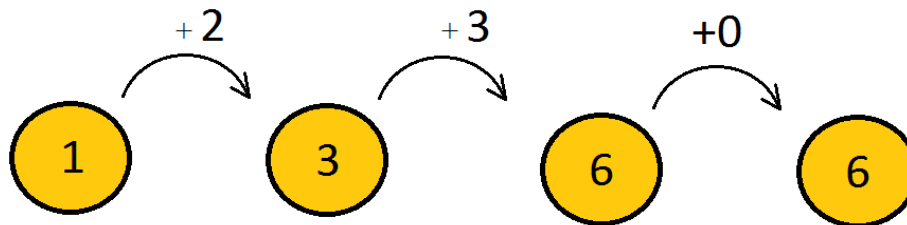
Jméno a příjmení:



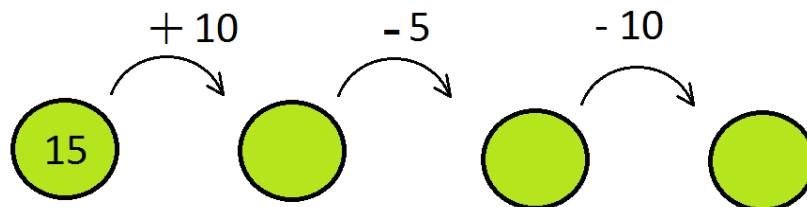
V bublinách jsou zapsaná čísla. Mezi bublinami jsou spojnice a nad nimi čísla a znaménko, které ti poví, co máš s číslem udělat, s kterými máš pracovat. Spočítej výsledek a napiš ho

do posledního políčka.

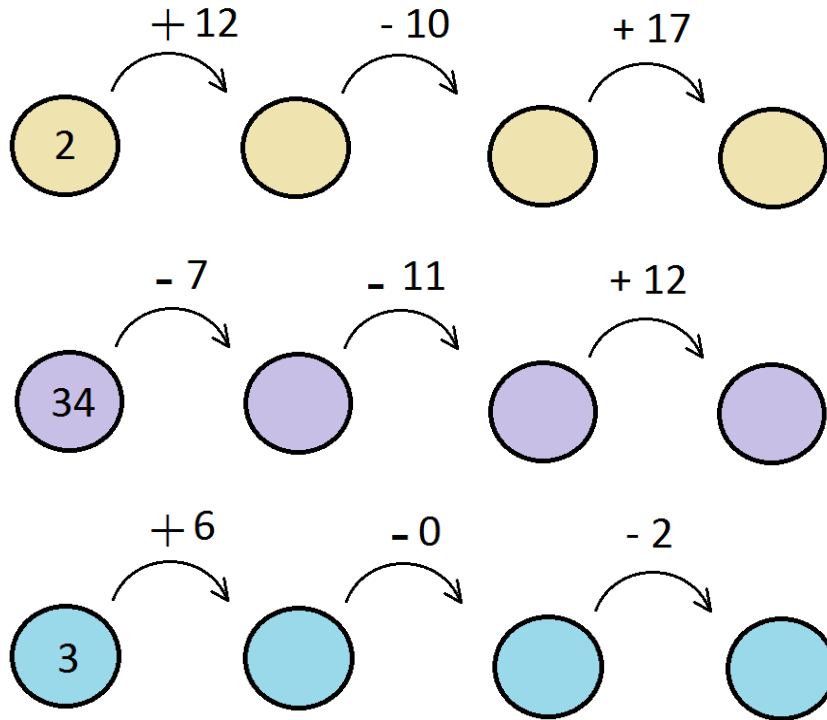
Ukázka



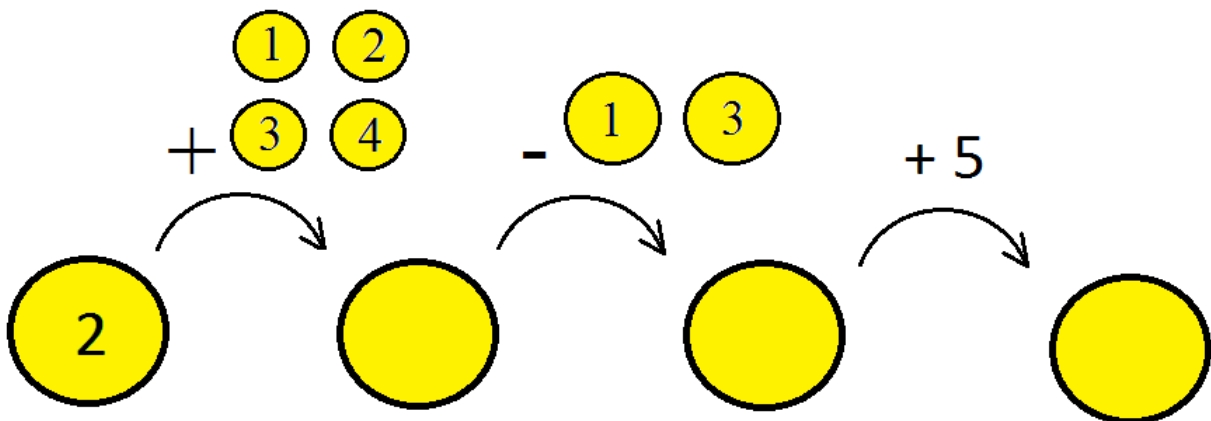
Úloha 1. Vepiš do bublin správná čísla



INVESTICE DO ROZVOJE VZDĚLÁVÁNÍ



Úloha 2. Nyní se stalo, že máš na výběr, jaká čísla a operace použiješ. Zakresli všech osm možných řešení a spočítej výsledky.





INVESTICE DO ROZVOJE VZDĚLÁVÁNÍ

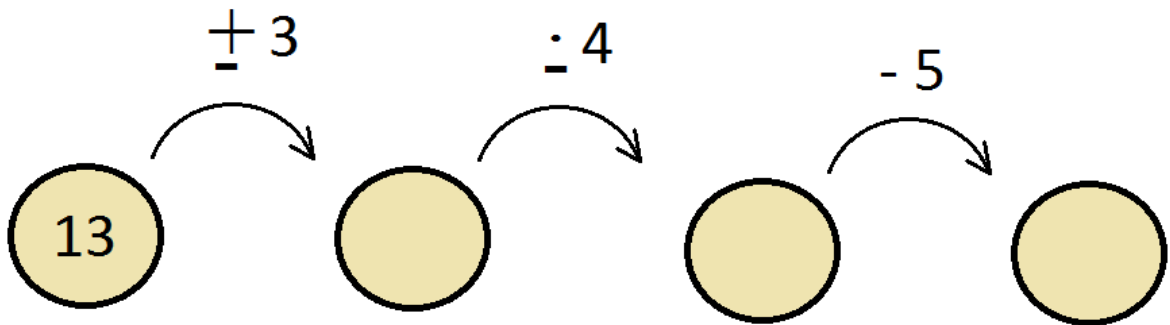
Zakresli řešení ze cvičení 2:



*Projekt „Cesta k inkluzi: od segregace k pozitivní diverzitě ve školství“,
reg.č. CZ.1.07/1.2.00/47.0008 je spolufinancován z Evropského sociálního fondu
a státního rozpočtu České republiky*



Úloha 3. V této úloze máš na výběr, jakou zvolíš operaci. Vypiš všechny čtyři řešení a spočítej je.



Zakresli řešení